


1

Αντιστοίχισε:

- | | | |
|---------|--------------------------------|---|
| 26,05 ● | ● 265 εκατοστά | ● $\frac{26}{100}$ |
| 0,26 ● | ● 26 εκατοστά | ● $\frac{265}{100}$ ή $2\frac{65}{100}$ |
| 2,65 ● | ● 26 ακέραιες μονάδες και 5 εκ | ● $26\frac{5}{100}$ |

2


Γράψε ποιος δεκαδικός αριθμός επαναλαμβάνεται:



1



.....



4,5

3

Συμπλήρωσε τους αριθμούς που λείπουν.

$$6\text{€} + 3,5\text{€} = \dots\text{€}$$

$$10\text{€} - 6,50\text{€} = \dots\text{€}$$

$$3\text{€} + 2,20\text{€} + 0,50\text{€} = \dots\text{€}$$

$$500\lambda. + 850\lambda. = \dots\text{€}$$



$$12\text{€} - \dots = 8,5\text{€}$$

$$2 \times \dots\text{€} = 8,5\text{€}$$

$$\dots\text{€} + \dots\text{€} = 8,5\text{€}$$

$$300\lambda + \dots\lambda = 8,5\text{€}$$

4

Σημειώνω Σ για το σωστό και Λ για το λάθος.



$1,4 = 1,40$

$5 \text{ εκ.} = 0,5 \text{ μ.}$

$1 \frac{2}{100} \text{ μ.} = 1,02 \text{ μ.}$


$2,06 = 2,60$

$500 \text{ γρ.} > 5 \text{ κ.}$

$0,1\text{κ.} = 100 \text{ γρ.}$

5

Μέτρησε με το χάρακά σου τις παρακάτω γραμμές. Ποια έχει το μεγαλύτερο μήκος;



Είναι εκατοστά

Είναι ... εκατοστά

Απάντηση:

6

Η μητέρα έδωσε 5€ στη Βασιλική για να αγοράσει από το φούρνο ψωμί, γάλα, χυμό, γιαούρτι και τυρόπιτα. Οι τιμές τους ήταν:

Ψωμί	60λ.
Γιαούρτι	0,80€
Γάλα	1,50€
Χυμός	1€ 40λ.
Τυρόπιτα	1,50€

Φτάνουν τα χρήματά της για να τα πάρει όλα;

α) Εκτιμώ:

β) Αν ξόδεψε ακριβώς τα χρήματα που είχε πάνω της τι αγόρασε;

Λύση:

Απάντηση:

γ) Πόσα ρέστα θα έπαιρνε από 10€ αν τα αγόραζε όλα;

Εκτιμώ:

Λύση:

Απάντηση: