

# ΕΠΑΝΑΛΗΠΤΙΚΟ

1. Βρίσκω τον προηγούμενο και τον επόμενο αριθμό.

\_\_\_,23,\_\_\_  
\_\_\_,43,\_\_\_

\_\_\_,39,\_\_\_  
\_\_\_,77,\_\_\_

\_\_\_,95,\_\_\_  
\_\_\_,94,\_\_\_

\_\_\_,50,\_\_\_  
\_\_\_,32,\_\_\_

2. Λογαριάζω και συμπληρώνω.

$54 - \underline{\quad} = 50$

$67 - \underline{\quad} = 60$

$73 - \underline{\quad} = 70$

$58 - \underline{\quad} = 50$

$64 - \underline{\quad} = 60$

$76 - \underline{\quad} = 70$

$56 - \underline{\quad} = 50$

$66 - \underline{\quad} = 60$

$78 - \underline{\quad} = 70$

$52 - \underline{\quad} = 50$

$69 - \underline{\quad} = 60$

$75 - \underline{\quad} = 70$

3. Λογαριάζω όπως στο παράδειγμα:

3 3



$47 + 6 =$

$34 + 8 =$

$45 + 7 =$

$26 + 9 =$

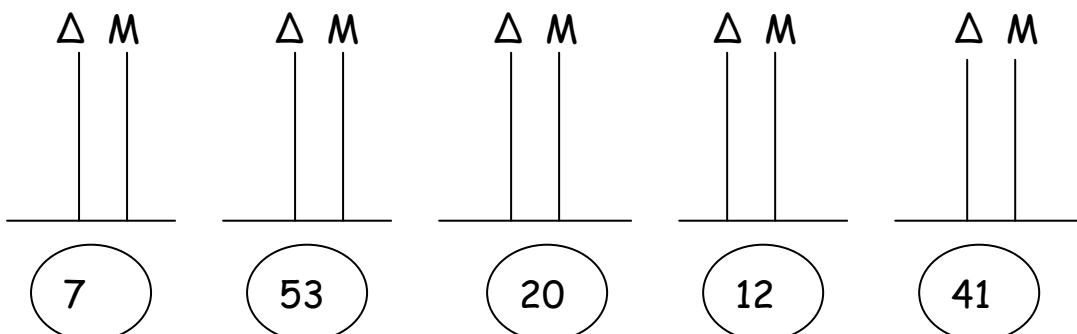
$47 + 3 + 3 =$

$50 + 3 = 53$

4. Συμπληρώνω τον παρακάτω πίνακα.

Το ολόκληρο	10	20			50		70		100
Το μισό			15	20		30		45	

5. Να συμπληρώσετε τους άβακες.



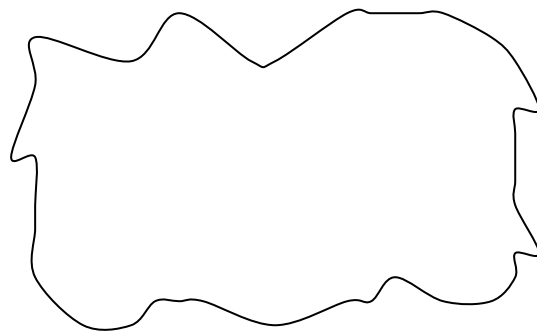
Γράφω τους παραπάνω αριθμούς από το μικρότερο στο μεγαλύτερο.

\_\_\_\_\_ < \_\_\_\_\_ < \_\_\_\_\_ < \_\_\_\_\_ < \_\_\_\_\_

6. Λύνω τα παρακάτω προβλήματα με ζωγραφική:

A) Είχα 30 ευρώ. Αγόρασα ένα ζευγάρι αθλητικά παπούτσια με 20 ευρώ και τα υπόλοιπα τα μοιράστηκα με την αδερφή μου. Πόσα ευρώ πήρε ο καθένας μας;

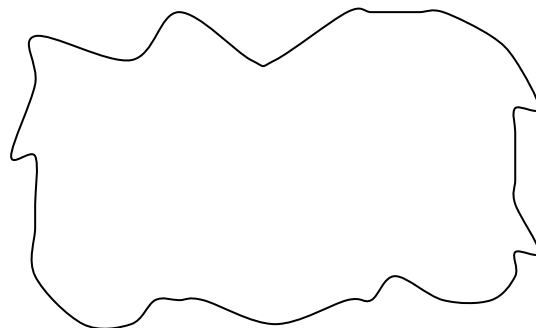
Λογαριάζω



Απάντηση: \_\_\_\_\_

B) Έδωσα στην unicef το μισό χαρτζιλίκι μου και τώρα έχω 8 ευρώ. Πόσα χρήματα είχα εγώ στην αρχή και πόσα έδωσα στη unicef;

Λογαριάζω



Απάντηση: \_\_\_\_\_