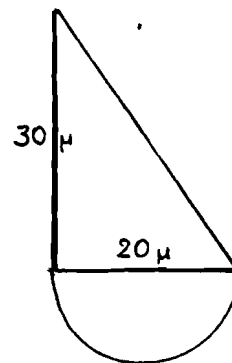
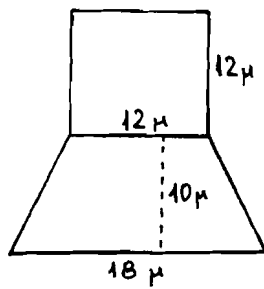
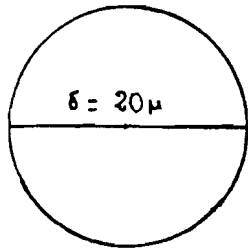
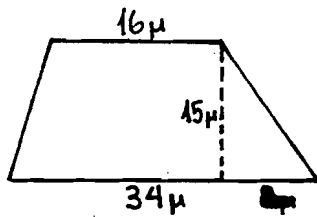
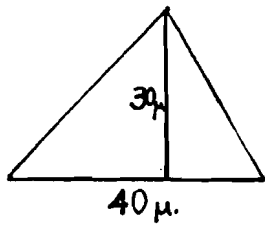
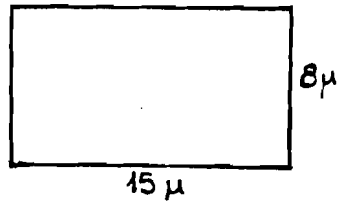
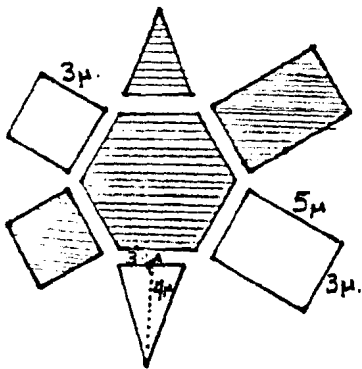
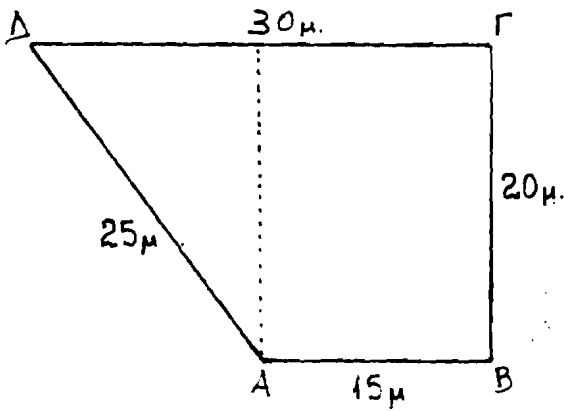


ΝΑ ΥΠΟΛΟΓΙΣΕΤΕ ΤΟ ΕΜΒΑΔΟΝ ΤΩΝ ΠΑΡΑΚΑΤΩ ΟΙΚΟΠΕΔΩΝ:

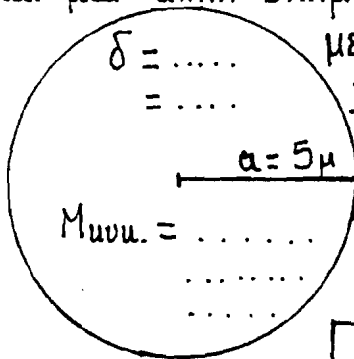


ΝΑ ΥΠΟΛΟΓΙΣΕΤΕ ΤΗΝ ΠΕΡΙΜΕΤΡΟ ΚΑΙ ΤΟ ΕΜΒΑΔΟΝ ΤΟΥ ΟΙΚΟΠΕΔΟΥ.



Θέλουμε να στρώσουμε πλακάκια στα 3 σχήματα που είναι σκιασμένα. Ποσα πλακάκια θα χρειαζούμε αν για κάθε τμ. χρειάζονται 16 πλακάκια;

Ο κ. Γιάννης θέλει να περιφράξει μια κυλιική έυταση αυτίνας 5 μ και μια άλλη σχήματος τετραγώνου με πλευρά 8 μ.



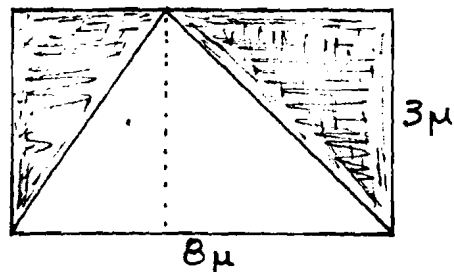
Σε ποια περιφραξη θα χρησιμοποιήσει περισσότερο πλέγμα;

Μηνυ. = .....

ΑΠΑΝΤΗΣΗ: .....

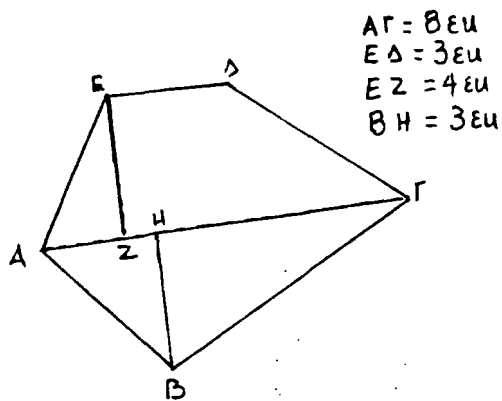
Πτεε =

8 μ

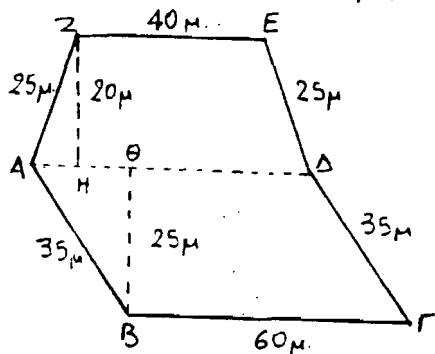


Να υπολογίσετε το εμβαδόν των δύο τριγώνων που είναι σκιασμένα.

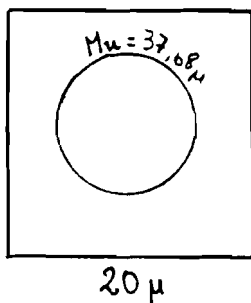
Να υπολογίσετε το εμβαδόν του σχήματος ΑΒΓΔΕ.



Να υπολογίσετε την περίμετρο και το εμβαδόν του χωραφιού.



Σε μια πλατεία σχήματος τετραγώνου κατασκευάσαν ένα συντριβάνι σχήματος κυκλικού δίσκου και τον υπόλοιπο χώρο του έσπειραν χρασίδι. Πόσος είναι ο χώρος που καλύπτει το χρασίδι;



Πόσα τετρ. μέτρα ύφασμα χρειάζεται ο μαγάνης για την τέντα που έβαλε στο μαγαζί;

