

Φτιάχνω αριθμούς μέχρι το 100  
και τους συγκρίνω

1. Συμπληρώνω τις δεκάδες.



2. Ποιους αριθμούς φανερώνουν τους γράφω με αριθμούς και με λέξεις.

|  | <u>Αριθμός</u> | <u>Ονομασία</u> | $\Delta$   $M$                  |
|--|----------------|-----------------|---------------------------------|
|  | ...            | _____           | _____   _____                   |
|  | ...            | _____           | $\Delta$   $M$<br>_____   _____ |
|  | ...            | _____           | $\Delta$   $M$<br>_____   _____ |

3. Συμπληρώνω τους αριθμούς που λείπουν.

$$\underline{\quad} + 10 = 30$$

$$\underline{\quad} + 20 = 50$$

$$\underline{\quad} + 10 = 60$$

$$\underline{\quad} + 40 = 60$$

$$\underline{\quad} + 50 = 70$$

$$60 + \underline{\quad} = 80$$

$$30 + \underline{\quad} = 50$$

$$30 + \underline{\quad} = 70$$

$$20 + \underline{\quad} = 60$$

$$80 + \underline{\quad} = 100$$

$$90 - \underline{\quad} = 80$$

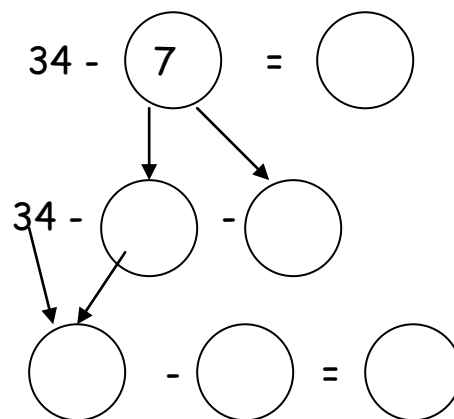
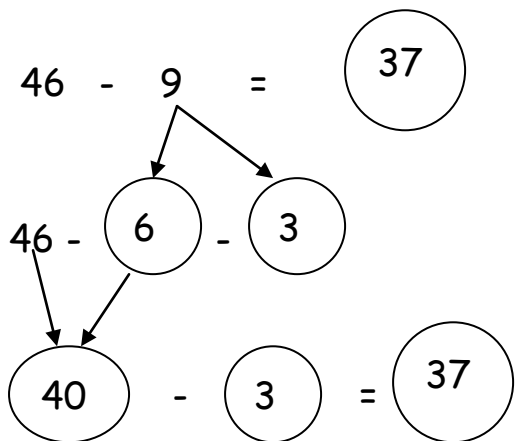
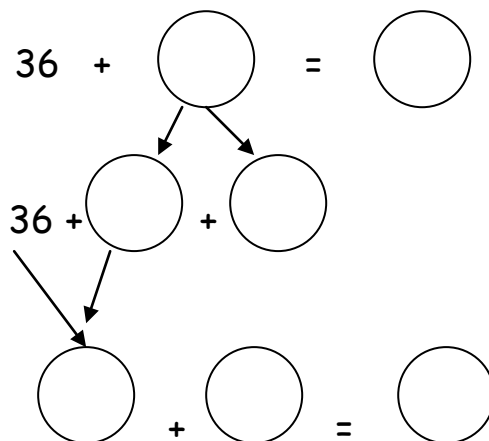
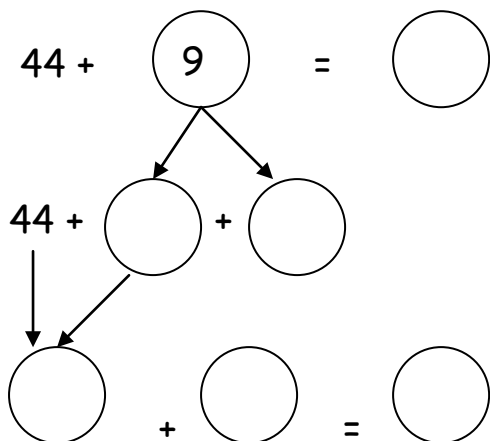
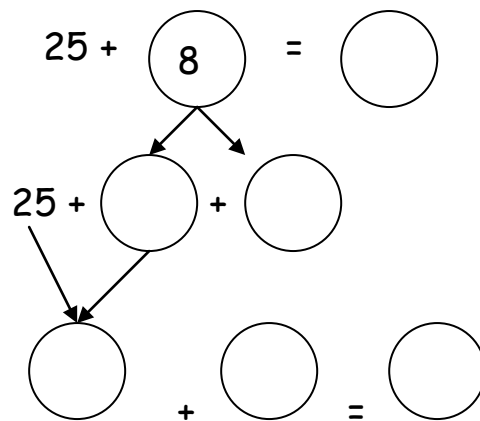
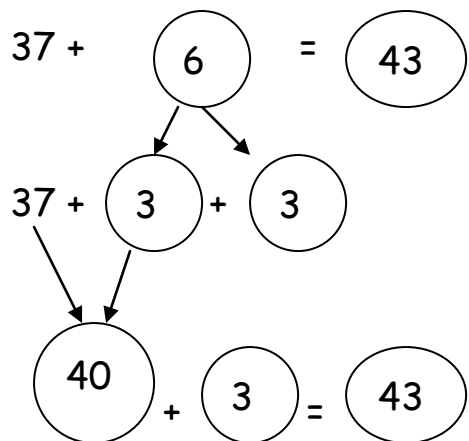
$$80 - \underline{\quad} = 60$$

$$70 - \underline{\quad} = 40$$

$$40 - \underline{\quad} = 20$$

$$20 - \underline{\quad} = 0$$

4. Λογαριάζω όπως στο παράδειγμα:



5. Η μαμά της Μαίρης έχει 3 δεκάδες μανταλάκια.  
Πόσα μανταλάκια έχει η μαμά της Μαίρης;

Σκέφτομαι:

Τι πράξεις μπορώ να κάνω;

Θα κάνω .....

Λογαριάζω

$$\underline{\quad} \underline{\quad} \underline{\quad} = \bigcirc$$

Απάντηση: \_\_\_\_\_

6. Ποια κουτάκια έχουν αριθμό μικρότερο από τον αριθμό που είναι στον κύκλο; Χρωμάτισέ τα.

|    |    |    |    |    |    |    |     |    |    |
|----|----|----|----|----|----|----|-----|----|----|
| 90 | 50 | 70 | 20 | 10 | 80 | 40 | 100 | 60 | 30 |
|----|----|----|----|----|----|----|-----|----|----|

60

|    |    |     |    |    |    |    |    |    |    |
|----|----|-----|----|----|----|----|----|----|----|
| 50 | 90 | 100 | 30 | 80 | 60 | 40 | 20 | 70 | 10 |
|----|----|-----|----|----|----|----|----|----|----|

40

7. Συγκρίνω τους αριθμούς γράφοντας στο κυκλάκι > , < ή = .

34 ○ 43

23 ○ 34

43 ○ 40

43 ○ 23

32 ○ 43

40 ○ 34

32 ○ 23

43 ○ 34

34 ○ 23